



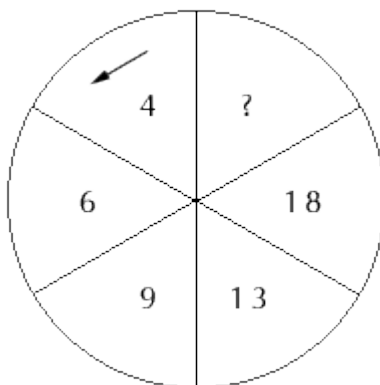
СПИСОК ВОПРОСОВ ДЛЯ ТЕСТА АЙЗЕНКА

# Числовой тест (IQ)

1. Продолжите числовой ряд

18 20 24 32 ?

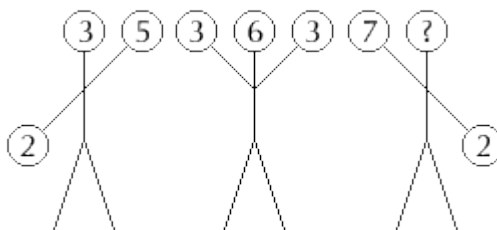
2. Вставьте недостающее число



3. Продолжите числовой ряд

212 179 146 113 ?

4. Вставьте недостающее число



5. Продолжите числовой ряд

6 8 10 11 14 14 ?

6. Вставьте пропущенное число.

7. 17 (112) 39  
28 ( ) 49

8. Вставьте пропущенное число

9. 3 9 3  
10. 5 7 1  
7 1 ?

11. Продолжите ряд чисел

7 13 24 45 ?

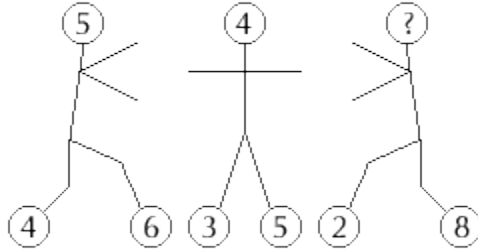
12. Вставьте пропущенное число.

13.  $\begin{matrix} 243 & (333) & 567 \\ 345 & ( \quad ) & 678 \end{matrix}$

14. Вставьте пропущенное число.

4 5 7 11 19 ?

15. Вставьте недостающее число



16. Продолжите числовой ряд

6 7 9 13 21 ?

17. Вставьте пропущенное число

18.  $\begin{matrix} 4 & 8 & 6 \\ 6 & 2 & 4 \\ 8 & 6 & ? \end{matrix}$

20. Продолжите числовой ряд

68 48 40 36 34 ?

21. Вставьте недостающее число

2	6	?	9
54	18	81	27

22. Вставьте пропущенное число.

23.  $\begin{matrix} 718 & (26) & 582 \\ 474 & ( \quad ) & 226 \end{matrix}$

24. Продолжите числовой ряд

15 13 12 11 9 9 ?

25. Вставьте пропущенное число

26.  $\begin{matrix} 9 & 4 & 1 \\ 6 & 6 & 2 \\ 1 & 9 & ? \end{matrix}$

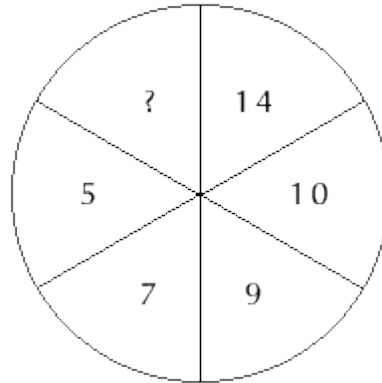
28. Вставьте пропущенное число

11 12 14 ? 26 42

29. Вставьте пропущенное число

30. 8 5 2  
31. 4 2 0  
9 6 ?

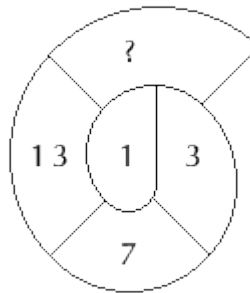
32. Вставьте пропущенное число



33. Вставьте пропущенное число.

34. 341 (250) 466  
282 ( ) 398

35. Вставьте пропущенное число



36. Вставьте пропущенное число.

37. 12 (336) 14  
15 ( ) 16

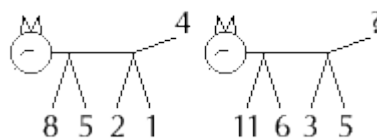
38. Вставьте пропущенное число

39. 4 7 6  
40. 8 4 8  
6 5 ?

41. Продолжите числовой ряд

7 14 10 12 14 9 ?

42. Вставьте недостающее число



43. Вставьте пропущенное число.

$$\begin{array}{r} 44. \quad 17 \quad (102) \quad 12 \\ \quad \quad 14 \quad ( \quad ) \quad 11 \end{array}$$

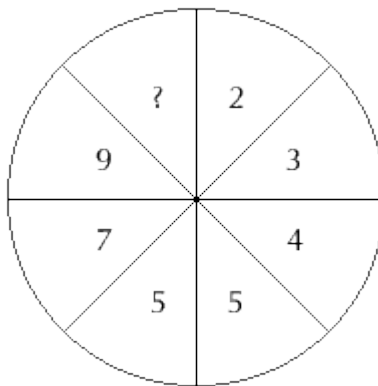
45. Продолжите числовой ряд

$$172 \quad 84 \quad 40 \quad 18 \quad ?$$

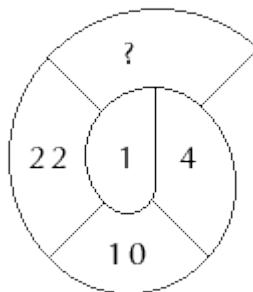
46. Продолжите числовой ряд

$$1 \quad 5 \quad 13 \quad 29 \quad ?$$

47. Вставьте недостающее число



48. Вставьте недостающее число



49. Продолжите числовой ряд

$$0 \quad 3 \quad 8 \quad 15 \quad ?$$

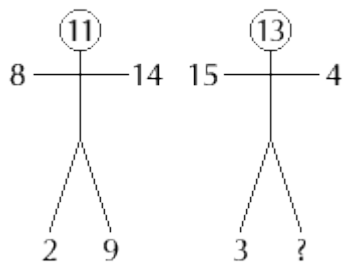
50. Вставьте пропущенное число

$$1 \quad 3 \quad 2 \quad ? \quad 3 \quad 7$$

51. Вставьте пропущенное число.

$$\begin{array}{r} 52. \quad 447 \quad (366) \quad 264 \\ \quad \quad 262 \quad ( \quad ) \quad 521 \end{array}$$

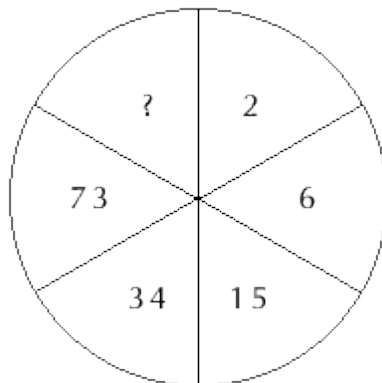
53. Вставьте недостающее число



54. Продолжите числовой ряд

4 7 9 11 14 15 19 ?

55. Вставьте недостающее число



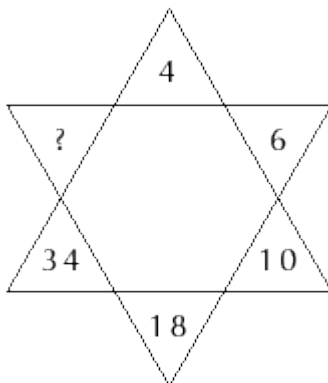
56. Вставьте пропущенное число

57. 3 7 16  
58. 6 13 28  
9 19 ?

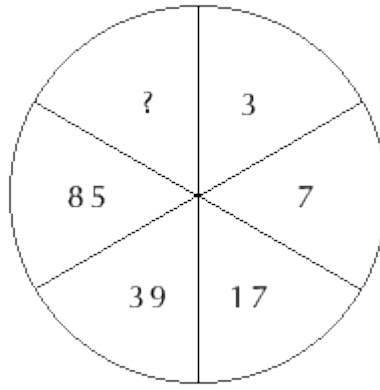
59. Вставьте недостающие число

2	5	9	14	?
4	8	13	19	?

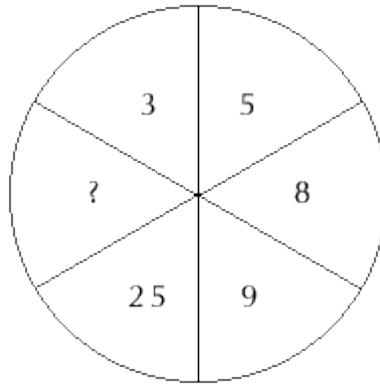
60. Вставьте пропущенное число



61. Вставьте пропущенное число



62. Вставьте недостающее число



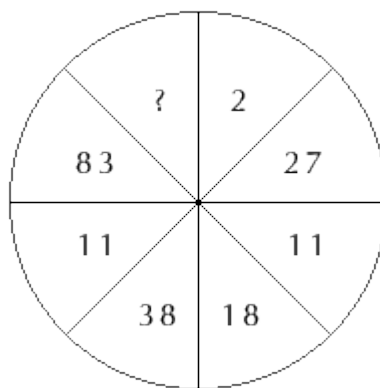
63. Вставьте пропущенное число.

$$64. \begin{array}{ccc} 643 & (111) & 421 \\ 269 & ( \quad ) & 491 \end{array}$$

65. Продолжите числовой ряд

$$857 \quad 969 \quad 745 \quad 1193 \quad ?$$

66. Вставьте недостающее число



67. Вставьте пропущенные числа

$$68. \begin{array}{ccc} 9 & (45) & 81 \\ 69. \begin{array}{ccc} 8 & (36) & 64 \\ 10 & ( \quad ) & ? \end{array} \end{array}$$

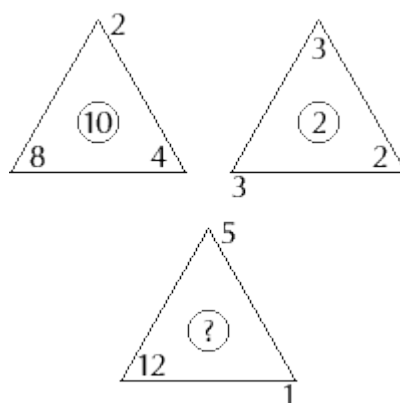
70. Продолжите числовой ряд

$$7 \quad 19 \quad 37 \quad 61 \quad ?$$

71. Продолжите числовой ряд

5 41 149 329 ?

72. Вставьте пропущенное число



По материалам сайта [ГадалкинДом.ру](http://ГадалкинДом.ру)